







Wir würfeln (2)

1. a) Maxi hat gewürfelt und die Ergebnisse in eine Tabelle eingetragen.







					
3	1	0	3	2	1

Was fällt dir auf?

b) Till sagt: „Eine 6 zu würfeln ist viel schwerer als eine 4.“

Was sagst du dazu?

2. Würfele 10-mal und trage die Ergebnisse in die Tabelle ein.

Vergleiche deine Ergebnisse mit den Ergebnissen von Maxi.

3. Was sagst du dazu?

