


Das Malkreuz

Zerlege die Aufgabe in vier Mal-Aufgaben und rechne sie aus. Zeichne ein und schreibe den Rechenweg auf.

1)


$$16 \cdot 13$$



.	=
<hr/>	

2)


$$12 \cdot 14$$



.	=
<hr/>	

3)

$$18 \cdot 19$$



.	=
<hr/>	