


Forscherblatt 1

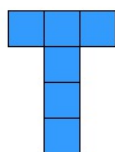
Das ist ein Würfelnetz. Also alle Flächen eines Würfels, wenn man ihn aufklappen würde.



1. Zeichne das Netz auf ein Blatt. Ein Quadrat soll die Seitenlänge 4 cm haben.
2. Überprüfe, ob sich das Netz zu einem Würfel zusammensetzen lässt. Schneide das Würfelnetz aus und falte es zu einem Würfel.

Forscherblatt 2

Hier siehst du ein anderes Würfelnetz. Auch aus diesem lässt sich ein Würfel zusammensetzen.

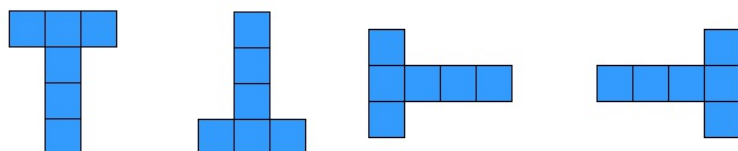


1. Finde weitere Würfelnetze.
Wie viele Würfelnetze kannst du finden?
Zeichne sie in dein Heft.



Tippkarte 1
Tippkarte 2

Hinweis: Wenn du die Netze drehen kannst und du das Netz bereits hast, dann zählt es NICHT als neues Netz. z. B.:



Das sind alles die gleichen Netze.