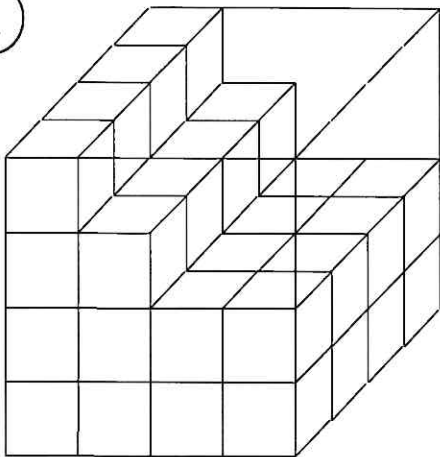


Einheitswürfel 1

Beantworte für jede Schachtel die vier Fragen!

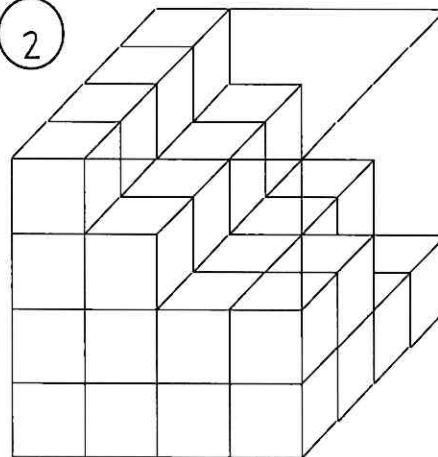
Wie viele Würfel befinden sich in der Schachtel, wie viele kann man sehen, wie viele passen noch hinein und wie viele sind in der komplett gefüllten Schachtel?

1



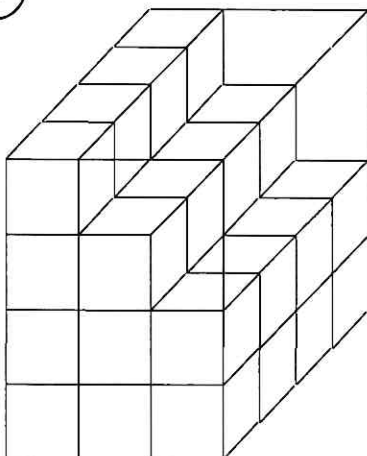
44, 26, 22, 64

2



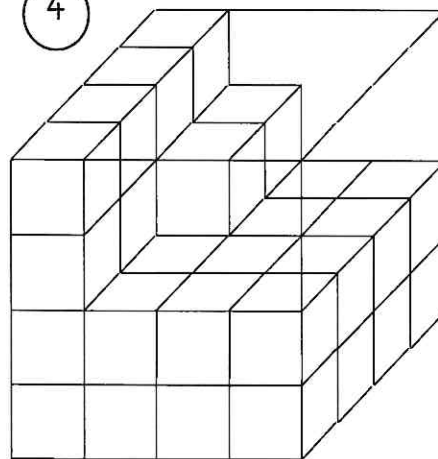
42, 24, 24, 64

3



36, 21, 12, 48

4



42, 25, 24, 64