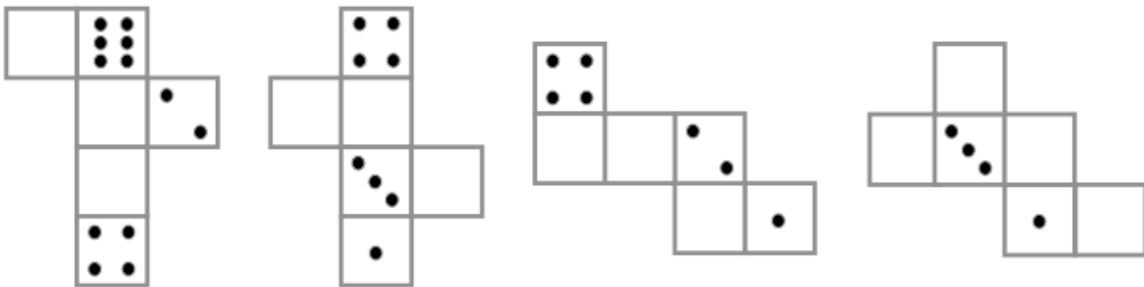



Name: _____

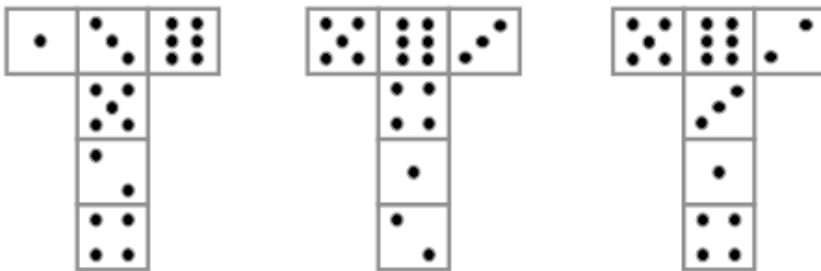
1. Zeichne die fehlenden Augenzahlen in die Flächen der Würfelnetze ein.

Mein Tipp:

Bei Spielwürfeln gibt es einen *7er-Trick*. Die Punkte auf zwei gegenüberliegenden Seiten ergeben zusammengezählt immer 7




2. Welches Würfelnetz passt zu diesem Würfel?



3. Erkläre, warum die anderen zwei Würfelnetze nicht passen können.

Name: _____



Erfinde eigene Würfelnetze mit Muster und zeige sie deinem Partner.
Dein Partner soll dir möglichst genau beschreiben, wie der Würfel zu deinem Würfelnetz aussieht.