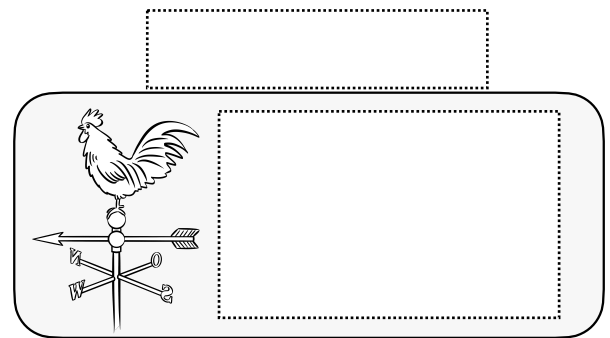
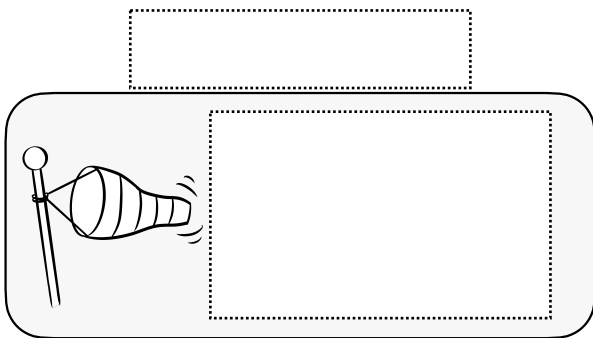
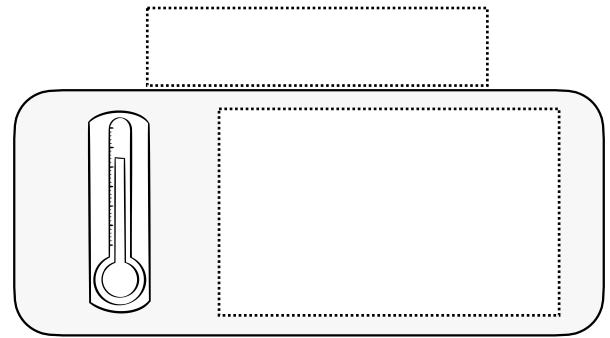
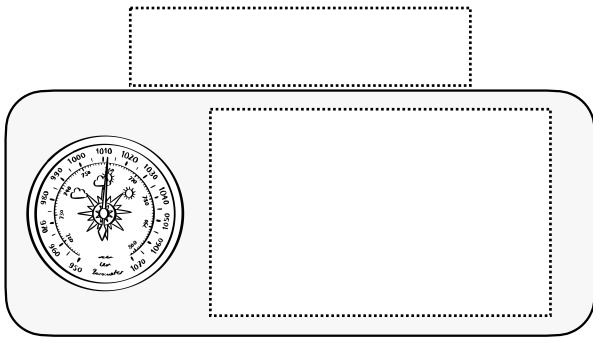
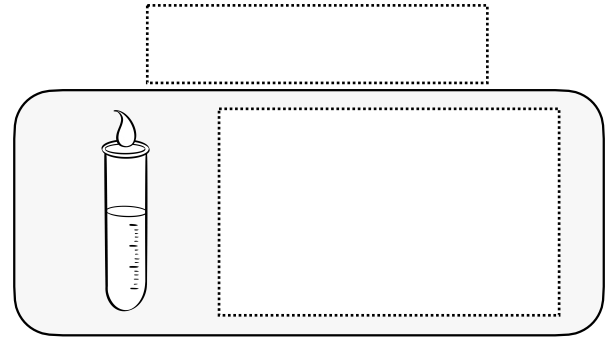
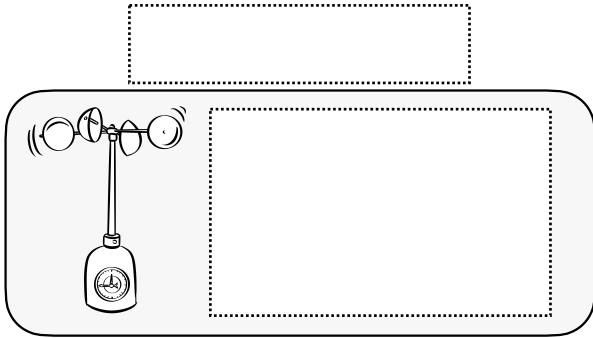


# Unser Wetter: Messgeräte

**Aufgabe:** Ordne die Texte und Bezeichnungen dem jeweils richtigen Messgerät zu. Male die Geräte anschließend in den passenden Farben an.



Ich gebe die Geschwindigkeit des Windes an und zeige mit meinem Sack, in welche Richtung er weht.

Ich kann den Druck in unserer Luft bestimmen. Ist der Luftdruck niedrig, dann bedeutet dies häufig Regen und Wind.

Die Skala auf meinem Plastikrohr zeigt an, wie viel Niederschlag (Regen) in einer bestimmten Zeit vom Himmel gefallen ist.

Je schneller sich meine Schalen drehen, umso schneller geht auch der Wind. Dadurch messe ich die Windgeschwindigkeit.

Ich bin ein altes Messgerät und befinde mich meist auf Hausdächern. Mein Kopf zeigt, von welcher der Richtung der Wind kommt.

Ich zeige die Temperatur in Grad Celsius an. Je höher die Flüssigkeit in meinem Glas steigt, desto wärmer ist es.

Thermometer

Barometer

Wetterhahn

Anemometer

Windsack

Regenmesser