



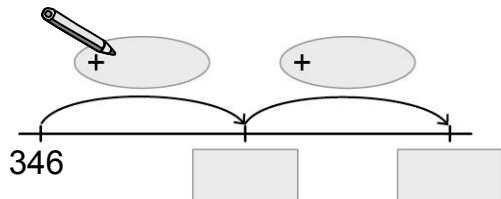
Plusaufgaben in zwei Schritten lösen (4)

Zuerst die Einer oder zuerst die Zehner?

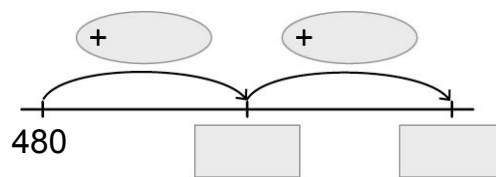


1 Stelle deine Rechenschritte am Rechenstrich dar.

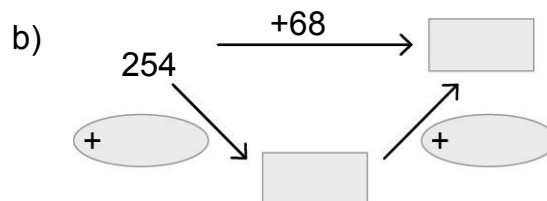
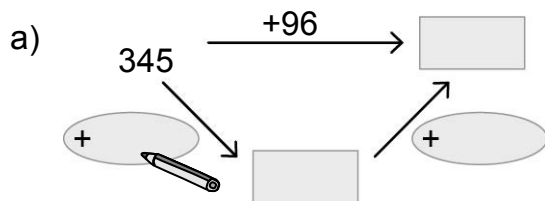
a) $346 + 85 = \square$



b) $480 + 94 = \square$



2 Trage deine Rechenschritte im Pfeilbild ein.



3 Schreibe deine Rechenschritte auf.

a)

$$\begin{array}{r} 754 + 92 = \square \\ \hline 754 + \square = \square \\ \square + \square = \square \end{array}$$

b)

$$\begin{array}{r} 683 + 69 = \square \\ \hline 683 + \square = \square \\ \square + \square = \square \end{array}$$

4 Rechne im Kopf. Trage die Ergebnisse ein.

a)

$$\begin{array}{l} 128 + 94 = \square \\ 435 + 87 = \square \\ 456 + 68 = \square \end{array}$$

b)

$$\begin{array}{l} 264 + 48 = \square \\ 363 + 73 = \square \\ 522 + 89 = \square \end{array}$$

c)

$$\begin{array}{l} 666 + 66 = \square \\ 777 + 77 = \square \\ 888 + 88 = \square \end{array}$$

d)

$$\begin{array}{l} 374 + 67 = \square \\ 259 + 81 = \square \\ 197 + 97 = \square \end{array}$$