
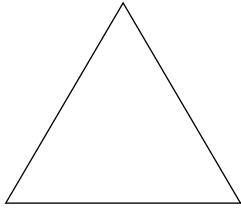


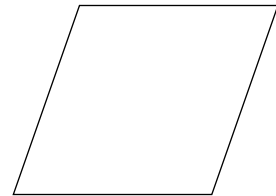
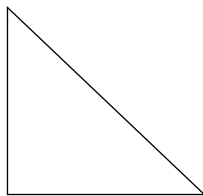

Name:	Klasse:	Datum:
-------	---------	--------

Ebene Geometrie


Welche Formen erkennst du?

1 Welche Formen erkennst du? Schreibe den Namen der Form dazu.





2 Welche Flächen kannst du finden? Male sie an.
Schreibe den Namen der Form in die Fläche.

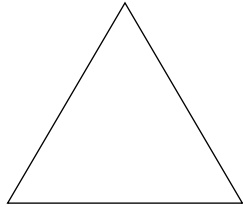


Name:	Klasse:	Datum:
-------	---------	--------


Ebene Geometrie

Welche Formen erkennst du?

1 Welche Formen erkennst du? Schreibe den Namen der Form dazu.




(gleichseitiges) Dreieck



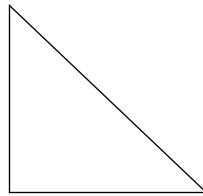
Quadrat



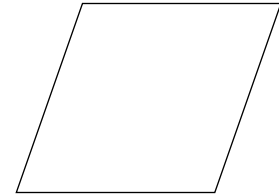
Rechteck



Kreis



Dreieck



Parallelogramm

2 Welche Flächen kannst du finden? Male sie an.
Schreibe den Namen der Form in die Fläche.

- z. B. Kreis
- Rechteck
- Quadrat

