

Aufgaben Körper

Verbinde die Körper mit dem dazugehörigen Namen.




Zylinder



Pyramide



Quader

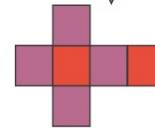
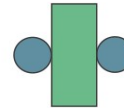
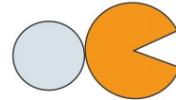
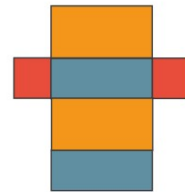



Würfel








Kegel

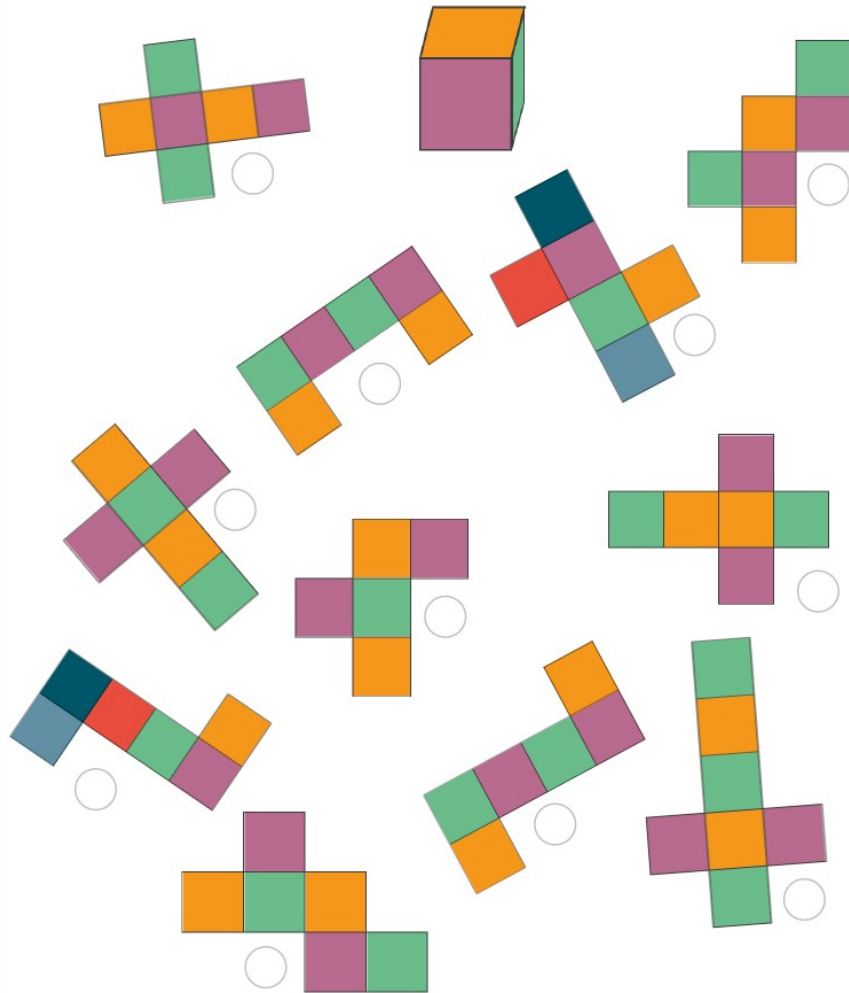
Verbinde die Körper mit dem dazugehörigen Netz.



Wie viel Ecken, Kanten und Flächen hat der Körper?

	Ecken	Kanten	Flächen
			
			
			
			
			

Welche Netze passen zum dargestellten Würfel? Kreuze die passenden Netze an.



Kannst du die folgenden Körperrätsel lösen? Achtung, manchmal gibt es auch zwei richtige Antworten.

1. Aus sechs gleich großen Quadraten besteht das Körpernetz.	
2. Der Körper hat keine Ecken und Kanten.	
3. Das Körpernetz besteht aus vier Dreiecken und einem Quadrat.	
4. Der Körper ähnelt einer Schuhschachtel.	
5. Alle Seitenflächen des gesuchten Körpers sind gleich groß.	
6. Der Körper ähnelt den Grabstätten der Pharaonen.	
7. Die Grund- und Deckfläche des Körpers ist jeweils ein Kreis.	
8. Bei vielen Brettspielen ist dieser Körper unerlässlich.	
9. Die gegenüberliegenden Flächen sind jeweils gleich groß.	
10. Der Körper besitzt eine Spitze.	
11. Schultüten ähneln diesem Körper.	
12. Das Körpernetz besteht aus sechs Rechtecken, wobei jeweils zwei gleich groß sind.	
13. Die Grundfläche des Körpers ist ein Kreis.	
14. Beim Fußball wird mit diesem Körper gespielt.	
15. Das Körpernetz besteht aus zwei Kreisen und einem Rechteck.	